

الدرس : الحساب المثلثي

الامتدادات	القدرات المستهدفة	المكتسبات القبلية
- مسائل هندسية - الجداء السلمي - الفيزياء	- التعرف على جيب وظل زاوية حادة - استعمال العلاقات بين جيب و جيب تمام و ظل زاوية و طولي ضلعين في مثلث قائم الزاوية	- جيب تمام زاوية حادة - فيتاغورس - طاليس

مضامين الدرس وهيكله

1- النسب المثلثية

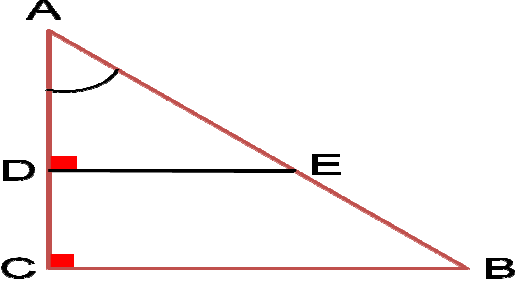
2- العلاقة بين جيب تمام وجيب وظل زاوية حادة

3- النسب المثلثية لزاويتين متتامتان

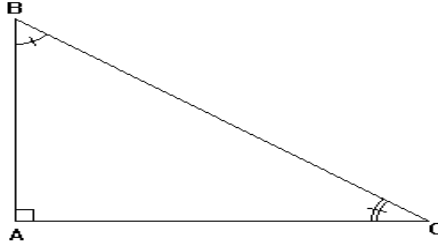
الوسائل اليداكتيكية : الكتاب المدرسي – السبورة – الطباشير-

Data show - المسطرة- الكوس – البركار

الموضوع: النسب المثلثية

الملاحظات	المحتوى	المراحل
المدة: 10 دقائق	<p>نشاط أوجد العدد الحقيقي a في كل حالة من الحالات التالية :</p> $\frac{a}{12} = \frac{2}{3} \quad " \quad \frac{15}{a} = \frac{3}{5} \quad " \quad \frac{a}{2} = \frac{21}{-6} \quad " \quad \frac{5}{a} = \frac{-1}{4}$	<p>أنشطة تشخيصية</p>
المدة: 20 دقائق	<p>نشاط مثلث قائم الزاوية في C، E نقطة من $[AB]$ المستقيم العمودي على (AC) والمار من E بحيث يقطع (AC) في D.</p>  <p>1- بين أن: $\frac{AC}{AB} = \frac{AD}{AE}$ (العدد $\frac{AC}{AB}$ يسمى جيب تمام الزاوية \hat{BAC} ونرمز له بالرمز : $\cos \hat{BAC}$)</p> <p>2- بين أن: $\frac{DE}{AE} = \frac{CB}{AB}$ (العدد $\frac{CB}{AB}$ يسمى جيب تمام الزاوية \hat{BAC} ونرمز له بالرمز : $\sin \hat{BAC}$)</p> <p>3- بين أن: $\frac{DE}{AD} = \frac{BC}{AC}$ (العدد $\frac{BC}{AC}$ يسمى جيب تمام الزاوية \hat{BAC} ونرمز له بالرمز : $\tan \hat{BAC}$)</p>	<p>أنشطة بنائية</p>
المدة: 10 دقائق	<p>1- النسب المثلثية تعريف</p> <p>- جيب تمام زاوية حادة في مثلث قائم الزاوية يساوي خارج طول الضلع المحادي للزاوية الحادة على طول الوتر - جيب زاوية حادة في مثلث قائم الزاوية يساوي خارج طول الضلع المقابل على طول الوتر - ظل زاوية حادة في مثلث قائم الزاوية يساوي خارج طول الضلع المقابل لهذه الزاوية على طول الضلع المحادي لها.</p> <p>مثال 1</p>	<p>ملخص الدروس</p>

الموضوع: النسب المثلثية



[AB] هو الضلع المحادي للزاوية $\hat{A}BC$ ، والمقابل للزاوية $\hat{A}CB$
 [AC] هو الضلع المقابل للزاوية $\hat{A}BC$ ، والمحادي للزاوية $\hat{A}CB$
 [CB] هو الوتر

$$\cos \hat{A}CB = \frac{AC}{BC} \quad ,, \quad \cos \hat{A}BC = \frac{AB}{BC}$$

$$\sin \hat{A}CB = \frac{AB}{BC} \quad ,, \quad \sin \hat{A}BC = \frac{AC}{BC}$$

$$\tan \hat{A}CB = \frac{AB}{AC} \quad ,, \quad \tan \hat{A}BC = \frac{AC}{AB}$$

مثال 2

مثلث قائم الزاوية في A ABC

بحيث : $BC = 5 \text{ cm}$ و $AB = 3 \text{ cm}$ و $AC = 4 \text{ cm}$

لنحسب النسب المثلثية للزاوية $\hat{A}CB$

لدينا : $\cos \hat{A}CB = \frac{AC}{BC}$ إذن : $\cos \hat{A}CB = \frac{4}{5}$

لدينا : $\sin \hat{A}CB = \frac{AB}{BC}$ إذن : $\sin \hat{A}CB = \frac{3}{5}$

لدينا : $\tan \hat{A}CB = \frac{AB}{AC}$ إذن : $\tan \hat{A}CB = \frac{3}{4}$

تمرين تطبيقي

ABC مثلث قائم الزاوية في A بحيث : $AC = 6 \text{ cm}$ و $AB = 8 \text{ cm}$

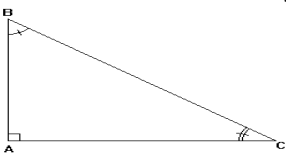
1- احسب BC

2- احسب النسب المثلثية للزاوية $\hat{A}CB$

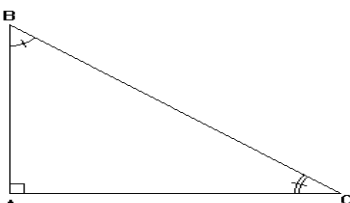
**أنشطة
تقويمية**

المدة: 15 دقائق

الموضوع: العلاقة بين جيب تمام وجيب وظل زاوية حادة

الملاحظات	المحتوى	المراحل
المدة: 10 دقائق	<p>نشاط مثلث قائم الزاوية في A بحيث : AC = 3 cm و AB = 2 cm و BC = $\sqrt{13}$ احسب النسب المثلثية للزاوية $\hat{A}CB$</p>	<p>أنشطة تشخيصية</p>
المدة: 20 دقائق	<p>نشاط مثلث قائم الزاوية في A.</p>  <p>1 - بين أن : $0 < \sin \hat{A}BC < 1$ و $0 < \cos \hat{A}CB < 1$ 2 - بين أن : $(\sin \hat{A}BC)^2 + (\cos \hat{A}CB)^2 = 1$ 3 بين أن : $\tan \hat{A}BC = \frac{\sin \hat{A}BC}{\cos \hat{A}CB}$</p>	<p>أنشطة بنائية</p>
	<p>2- العلاقة بين جيب تمام وجيب وظل زاوية حادة خاصية</p> <p>ليكن x قياس زاوية حادة، لدينا : $0 < \sin x < 1$ و $0 < \cos x < 1$ $\tan x = \frac{\sin x}{\cos x}$ و $(\sin x)^2 + (\cos x)^2 = 1$</p>	<p>ملخص الدروس</p>
المدة: 10 دقائق	<p>مثال</p> <p>لنحسب $\sin x$ و $\tan x$ علما أن : $\cos x = \frac{2}{3}$ لدينا : $\cos^2 x + \sin^2 x = 1$ إذن : $\sin^2 x = 1 - \cos^2 x = 1 - \left(\frac{2}{3}\right)^2 = 1 - \frac{4}{9} = \frac{9-4}{9} = \frac{5}{9}$ لدينا : $0 < \sin x < 1$ إذن : $\sin x = \sqrt{\frac{5}{9}} = \frac{\sqrt{5}}{3}$ لدينا : $\tan x = \frac{\sin x}{\cos x}$ إذن : $\tan x = \frac{\frac{\sqrt{5}}{3}}{\frac{2}{3}} = \frac{\sqrt{5}}{2}$ لدينا : $\cos \hat{A}CB = \frac{4}{5}$ إذن : $\cos \hat{A}CB = \frac{AC}{BC}$ لدينا : $\sin \hat{A}CB = \frac{3}{5}$ إذن : $\sin \hat{A}CB = \frac{AB}{BC}$</p>	
المدة: 15 دقائق	<p>تمرين تطبيقي قياس زاوية حادة x احسب $\tan x$ و $\sin x$ علما أن : $\cos x = \frac{4}{7}$</p>	<p>أنشطة تقويمية</p>

الموضوع: النسب المثلثية لزاويتين متتامتان

الملاحظات	المحتوى	المراحل
المدة: 10 دقائق	<p>نشاط</p> <p>\hat{B} و \hat{A} زاويتان متتامتان. احسب \hat{B} في كل حالة: $\hat{A} = 45^\circ$; $\hat{A} = 37^\circ$; $\hat{A} = 2^\circ$</p>	<p>أنشطة تشخيصية</p>
المدة: 20 دقائق	<p>نشاط</p> <p>ABC مثلث قائم الزاوية في A بحيث $AB = 3$ و $AC = 4$ و $BC = 5$</p> <p>1- احسب $\hat{A} + \hat{B}$ 2- احسب $\sin \hat{B}$ و $\cos \hat{B}$ و $\tan \hat{B}$ 3- احسب $\sin \hat{C}$ و $\cos \hat{C}$ و $\tan \hat{C}$ 4- ماذا تلاحظ 5- x قياس زاوية حادة اتمم ما يلي : $\sin(90 - x) = \dots$ و $\cos(90 - x) = \dots$ و $\tan(90 - x) = \dots$</p>	<p>أنشطة بنائية</p>
	<p>3- النسب المثلثية لزاويتين متتامتان</p> <p>تعريف</p> <p>إذا كانت زاويتين غير منعدمتين متتامتان، فإن: - جيب كل منهما يساوي جيب الأخرى - ظل كل منهما يساوي مقلوب ظل الأخرى.</p>	<p>ملخص الدروس</p>
المدة: 10 دقائق	<p>مثال</p> <p>ABC مثلث قائم الزاوية في A</p>  <p>$\tan \hat{B} = \frac{1}{\tan \hat{C}}$ و $\cos \hat{B} = \sin \hat{C}$ و $\cos \hat{C} = \sin \hat{B}$</p>	
المدة: 15 دقائق	<p>تمرين تطبيقي</p> <p>بسط ما يلي :</p> <p>$A = \cos 25^\circ + \cos 70^\circ - \sin 65^\circ + \sin 20^\circ$ $B = \sin 80^\circ + 7 \sin 25^\circ - \cos 10^\circ + 7 \sin 240^\circ$</p>	<p>أنشطة تقويمية</p>